


# Zamkowy zawrót głowy

Poznaj nazwy przedstawionych poniżej budowli. W tym celu wykonaj działania i połącz je z ich wynikami. Jedna ilustracja jest bez pary i przedstawia zamek Książ – pokoloruj ją.

zamek w Kórniku


$$\frac{1}{6} + \frac{4}{5} - \frac{9}{10}$$



$$\frac{3}{20}$$

zamek w Będzinie


$$2\frac{1}{4} \cdot 1\frac{2}{3} : 25$$



$$\frac{3}{16}$$

zamek Lubomirskich  
w Rzeszowie

$$2\frac{3}{5} + \frac{4}{5} \cdot \frac{2}{7}$$




$$\frac{1}{15}$$

zamek Czocho

$$4\frac{1}{6} \cdot \frac{3}{5} + 3\frac{4}{7}$$



$$6\frac{1}{14}$$



$$2\frac{29}{35}$$